

PREHISTÒRIA

1. Elabora un eix cronològic amb les dades següents:

| | | | |
|------------------|---------------------|----------------------|--------------------|
| Australopithecus | H. neanderthalensis | 150.00 / 35.000 | 3500000 / 2500000 |
| Homo habilis | Homo erectus | 2.300.000/ 1.800.000 | 1.900.000/ 400.000 |

2. Indica els tipus de megàlits de la Prehistòria i explica llur funció:

.....

.....

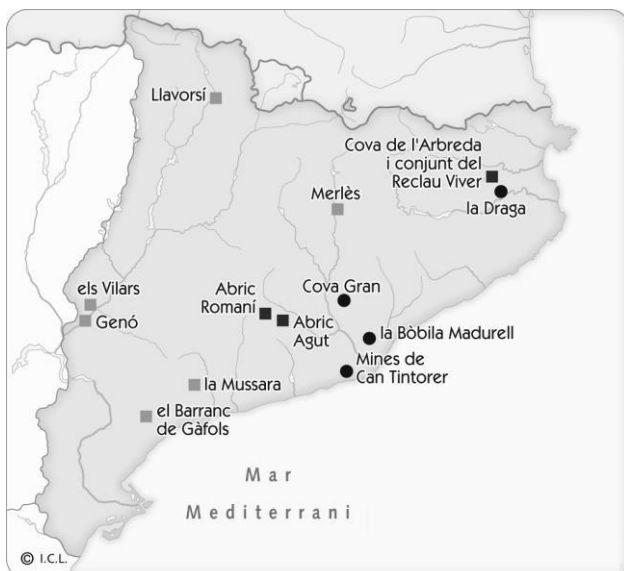
.....

.....

3. Indica si les següents afirmacions són verdaderes (V) o falses (F):

- Les aldees neolítiques eren autosuficients.
- Amb la metal·lúrgia van aparèixer els primers especialistes.
- L'expansió del comerç va afavorir l'aparició de grups socials.
- El ferro va ser el primer metall que es va fer servir a l'Edat dels Metalls.
- La cultura de Los Millares i la d'El Argar van desenvolupar-se durant el Neolític.

4. Consulta el llibre de text i explica a què corresponen els següents elements de la llegenda que hi ha al mapa:



EGIPTE

5. Acoloreix al mapa aquestes zones:

La Vall del Rift

El Creixent Fèrtil

Anota el nom dels estats actuals allí on correspon:

VALL DEL RIFT:

1:

2:

3:

4:

5:

6:

7:

CREIXENT FÈRTIL:

1:

2:

3:

4:

5:

6:

7:



6. Visiona el vídeo següent sobre les mines prehistòriques de Gavà i contesta:

<http://www.tiching.com/737720>

– Què era la variscita i per a què es feia servir?

.....
.....

– Quines són les mines en galeria més antigues d'Europa?

.....
.....

– Quan es van construir aquestes mines? Per a què es van construir?

.....

7. Per què creus que s'atribueix al període Neolític el nom de "Revolució Neolítica"? Raona la teva resposta.

.....

.....

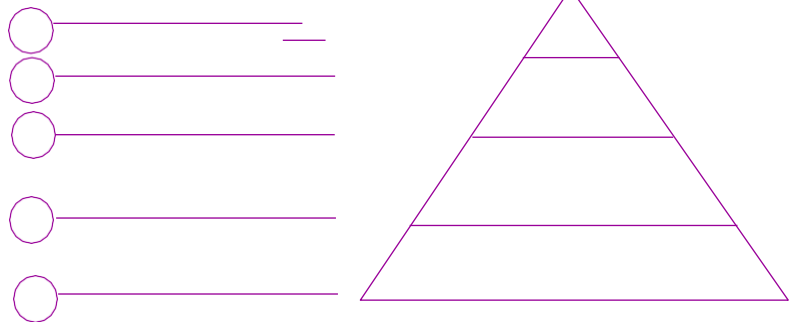
.....

.....

.....

8. Indica a la piràmide, seguint un ordre jeràrquic, la lletra que correspon als següents grups socials d'Egipte:

- a. Camperols.
- b. Alts funcionaris i escribes.
- c. Artesans i comerciants.
- d. Soldats.
- e. Faraó



9. Respon les següents preguntes sobre l'aparició de l'escriptura:

– Quines van ser les causes que van impulsar el desenvolupament de l'escriptura?

.....

.....

.....


– Com va evolucionar l'escriptura des dels primers pictogrames?

.....

.....

.....

10. Identifica les imatges dels següents complexos funeraris egipcis i descriu-ne les característiques principals:



- A. Piràmide:
-
- B. Hipogeu:
-
- C. Mastaba:
-

GRÈCIA

11. Localitza al mapa les següents ciutats i elements geogràfics on es va desenvolupar la civilització grega i escriu els seus noms:



- Àsia Menor
- Atenes
- Mar Egeu
- Mar Jònic
- Macedònia
- Peloponès
- Troia
- Esparta
- Focea

12. Explica les diferències del tipus de govern a les polis d'Esparta i Atenes. Utilitza les paraules dels requadres:

govern oligàrquic

aristòcrates

ciutadans

institucions democràtiques

.....

.....

.....

.....

13. Escriu els noms dels conceptes relacionats amb la colonització grega de la Mediterrània allí on correspon:

Lliga de Delos

G. Mèdiques

Alexandre

Filip IV

G. del Peloponès

- Rei que va derrotar els atenesos i va iniciar la conquesta de Grècia:
- Guerra en què s'enfrontaren Esparta i Atenes:
- Associació de ciutats dirigida per Atenes:
- Rei macedoni que va unificar l'Hèl·lade:
- Guerres en què es van enfrontar els exèrcits d'Atenes i Pèrsia:

14. Visita aquest web i, a continuació, respon a les preguntes plantejades sobre la democràcia a Atenes:

<http://www.tiching.com/737690>

- La democràcia atenenca era per a tothom? Justifica la teva resposta.

.....

.....

.....

.....

- De quins drets estaven privades les dones a la democràcia atenenca?

.....

.....

15. Entra al següent web, identifica tres temples de l'acròpoli d'Atenes i descriu-los:

<http://www.tiching.com/737598>

1. Partenó.....

2. Erectèon.....

3. Temple d'Atena Nike.....

| | | |
|-------|-------|-------|
| | | |
| | | |
| | | |
| | | |
| | | |
| | | |
| | | |

16. Descriu les conseqüències socials i culturals de les conquestes d'Alexandre el Gran i defineix breument el concepte d'Hel·lenisme.

.....

.....

.....

.....

.....

ROMA

17. Indica si les afirmacions següents sobre els orígens de Roma i l'època de la monarquia són verdaderes (V) o falses (F):

- Al començament la ciutat de Roma va ser governada per una oligarquia.
- Els romans van considerar que la seva història començava l'any 753 aC.
- Roma es va edificar sobre set turons per protegir-se dels enemics.
- La península Itàlica estava habitada per llatins, celtas i ibers al segle VII aC.
- La ciutat de Roma va tenir set reis, i els tres últims van ser d'origen etrusc.

18. Contesta les preguntes següents sobre la Roma republicana:

- Què significa *res publica*?

.....

.....

- Quines eren les diferències entre patricis i plebeus en els primers temps de la República?

.....

.....

- Quina era la funció del tribú de la plebs?

.....

.....

19. Indica com va néixer el cristianisme i on. Després explica per què al començament va ser perseguit:

.....

.....

.....

20. Indica les causes de les crisis que hi va haver a l'Imperi romà:

- Causes polítiques i socials:

.....

.....

- Causes militars:

.....

.....

- Causes econòmiques:

.....

.....

21. Pensa en la situació dels esclaus a la Grècia clàssica i a Roma. En quina de les dues societats trobes que els tractaven millor? Per què?

.....

.....

.....

.....

22. Busca informació al llibre i a Internet sobre quan van passar aquests fets històrics. Després escriu la data que correspon a cada esdeveniment.

509 a. C.

48 a. C.

27 a. C.

212 d. C.

235 d. C.

El Senat concedeix el títol d'*August* a Octavi.

Comença un període d'alta inestabilitat política per a l'Imperi.

L'emperador Caracal·la amplia el dret de ciutadania romana.

Roma es converteix en República després d'una revolta contra el rei.

Juli Cèsar és proclamat dictador perpetu i assumeix els màxims poders.

23. Entra al web i fes una visita virtual a l'antiga Roma. Assegura't de llegir totes les informacions durant la visita i, després, contesta les preguntes:

<http://www.tiching.com/740310>

– Com eren els carrers de les ciutats romanes?

.....

– Què eren els *lars*?

– Quina diferència hi ha entre una persona "lliure" i una persona "lliberta"?

.....

– Quin tipus d'informacions podem trobar als murs i a les parets?

.....

– Descriu el mercat romà i explica per què era important:

.....

– Indica per què l'aigua era vital per al dia a dia dels romans:

.....

LES FORMES DEL RELLEU DE LA TERRA

24. Contesta les preguntes:

a) En quines zones es divideix la Terra? Ordena-les de més a menys profunditat.

.....

.....

.....

.....

b) Quin és el principal agent extern modelador del relleu terrestre? De quines maneres actua?

.....

.....

.....

.....

25. Explica aquests conceptes:

- a) fossa marina:
- b) península:
- c) duna:
- d) continent:
- e) serralada:
- f) biosfera:
- g) mantell:
- h) tsunami:

26. Digues si les següents afirmacions són veritables (V) o falses (F):

- Els altiplans i els ermots són planures.
- Els plecs i les falles s'originen pels xocs de les plaques litosfèriques de la Terra.
- El vent és el principal agent erosiu extern del relleu.
- Les dorsals pertanyen a l'escorça continental.
- El lloc de l'interior de la Terra en què s'origina un terratrèmol s'anomena epicentre.
- Les profunditats terrestres més grans corresponen a les fosses oceàniques.

27. Completa aquest quadre resum dels agents del relleu:

aigua, vent, éssers vius

destrueixen el relleu i en creen un

montanyes, planures

deltas, istmes, penínsules

volcans, terratrèmols, sismes submarins

erosió, transport, sedimentació

| | Agents interns | Agents externs |
|--------------------------------------|----------------|----------------|
| Quins són? | | |
| Com actuen? | | |
| Quines formes del relleu produeixen? | | |

L'AIGUA: RIUS I MARS

28. Respon a les preguntes:

a) Què és la hidrosfera? Com es reparteix?

.....

.....

.....

b) Resumeix algunes de les característiques de les aigües salades del planeta i posa'n exemples. Fes el mateix amb les aigües dolces.

.....

.....

.....

29. Explica aquests conceptes:

- a) glacera:
- b) marea:
- c) escurriment:
- d) aqüífer:
- e) salinitat:
- f) llac:
- g) corrent marí:
- h) empremta hídrica:

30. Amb quin oceà, mar, riu o llac del planeta relaciones les característiques següents:

- a) És l'oceà més gran de la Terra i el que té una major profunditat: _____
- b) És el riu més cabalós del planeta i davalla per la selva brasilera: _____
- c) És el segon riu més llarg del món i discorre pel continent africà: _____
- d) És el llac més gran de la Terra, fins al punt que es considera un mar interior: _____
- e) És un riu espanyol que desemboca al mar Mediterrani i hi forma un delta: _____

EL TEMPS I EL CLIMA

31. Respon les preguntes:

a) Què és el temps? I el clima? En què es diferencien?

.....

.....

.....

.....

.....

b) Quins són els elements atmosfèrics dels quals depenen el temps i el clima? Explica'ls.

.....

.....

.....

.....

.....

32. Explica aquests conceptes:

- brisa marina:
- efecte d'hivernacle:
- capa d'ozó:
- amplitud tèrmica:
- estratosfera:
- troposfera:
- aire saturat:
- brisa de terra: