

1. Elabora un eix cronològic amb les dades següents:

Australopithecus	H. neanderthalensis	150.00 / 35.000	3500000 / 2500000
Homo habilis	Homo erectus	2.300.000 / 1.800.000	1.900.000 / 400.000

2. Indica els tipus de megàlits de la Prehistòria i explica llur funció:

.....

.....

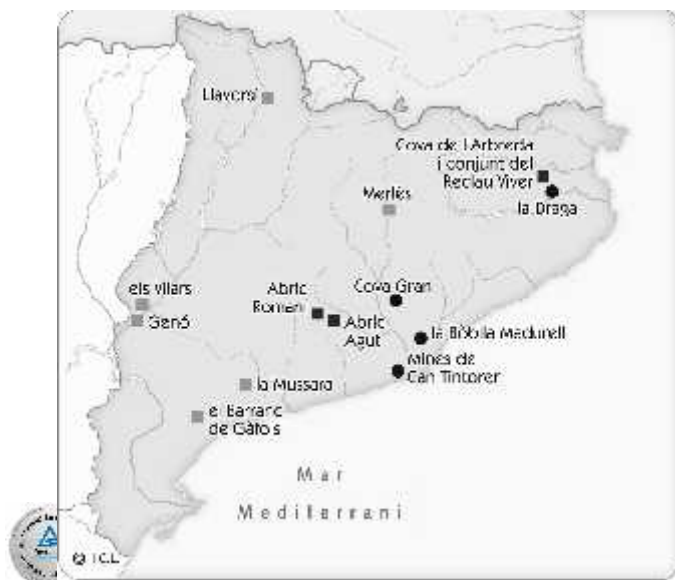
.....

.....

3. Indica si les següents afirmacions són verdaderes (V) o falses (F):

- Les aldees neolítiques eren autosuficients.
- Amb la metal·lúrgia van aparèixer els primers especialistes.
- L'expansió del comerç va afavorir l'aparició de grups socials.
- El ferro va ser el primer metall que es va fer servir a l'Edat dels Metalls.
- La cultura de Los Millares i la d'El Argar van desenvolupar-se durant el Neolític.

4. Consulta el llibre de text i explica a què corresponen els següents elements de la llegenda que hi ha al mapa:



1. Acoloreix al mapa aquestes zones:

La Vall del Rift

El Creixent Fèril

Anota el nom dels estats actuals
allí on correspon.

VALL DEL RIFT:

1:

2:

3:

4:

5:

6:

7:

CREIXENT FÈRIL:

1:

2:

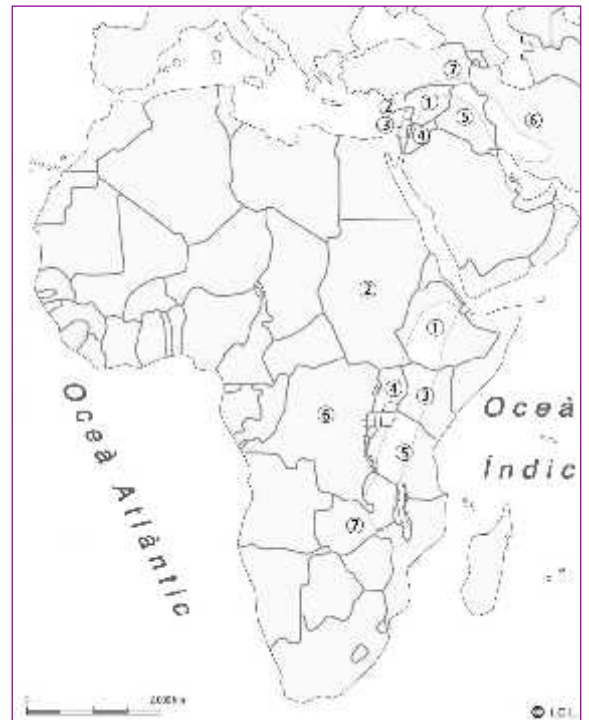
3:

4:

5:

6:

7:



2. Visiona el vídeo següent sobre les mines prehistòriques de Gavà i contesta:

<http://www.tiching.com/737720>

- Què era la variscita i per a què es feia servir?
- Quines són les mines en galeria més antigues d'Europa?
- Quan es van construir aquestes mines? Per a què es van construir?

3. Per què creus que s'atribueix al període Neolític el nom de "Revolució Neolítica"? Raona la teva resposta.

.....

.....

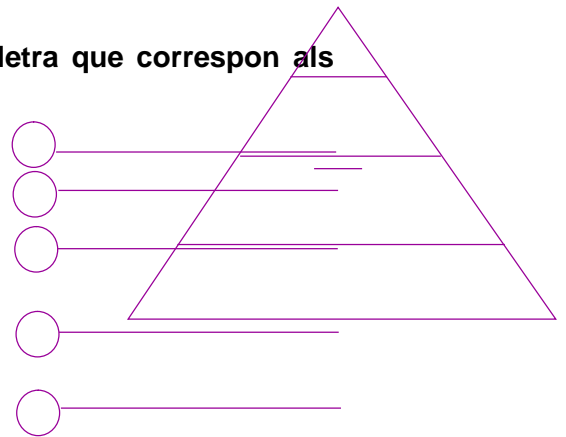
.....

.....

.....

1. Indica a la piràmide, seguint un ordre jeràrquic, la lletra que correspon als següents grups socials d'Egipte:

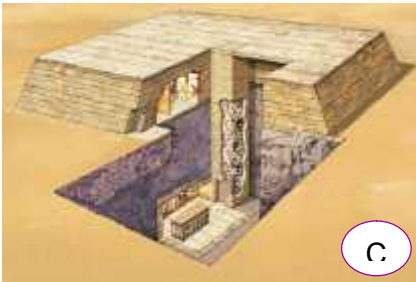
- a. Camperols.
- b. Alts funcionaris i escribes.
- c. Artesans i comerciants.
- d. Soldats.
- e. Faraó.



2. Respon les següents preguntes sobre l'aparició de l'escriptura:

- Quines van ser les causes que van impulsar el desenvolupament de l'escriptura?
-
-
- Com va evolucionar l'escriptura des dels primers pictogrames?
-
-

3. Identifica les imatges dels següents complexos funeraris egipcis i descriu-ne característiques principals:



- A. Piràmide:
-
- B. Hipogeu:
-
- C. Mastaba:
-

1. Localitza al mapa les següents ciutats i elements geogràfics on es va desenvolupar la civilització grega i escriu els seus noms:



Àsia Menor

Atenes

Mar Egeu

Mar Jònic

Macedònia

Peloponès

Troia

Esparta

Focea

2. Explica les diferències del tipus de govern a les polis d'Esparta i Atenes. Utilitza les paraules dels requadres:

govern oligàrquic

aristòcrates

ciutadans

institucions democràtiques

3. Escriu els noms dels conceptes relacionats amb la colonització grega de la Mediterrània allí on correspon:

Lliga de Delos

G. Mèdiques

Alexandre

Filip IV

G. del Peloponès

- Rei que va derrotar els atenesos i va iniciar la conquesta de Grècia:
- Guerra en què s'enfrontaren Esparta i Atenes:
- Associació de ciutats dirigida per Atenes:

- Rei macedoni que va unificar l'Hèl·lade:
- Guerres en què es van enfrontar els exèrcits d'Atenes i Pèrsia:

1. Visita aquest web i, a continuació, respon a les preguntes plantejades sobre la democràcia a Atenes:

<http://www.tiching.com/737690>

- La democràcia atenenca era per a tothom? Justifica la teva resposta.

.....

.....

.....

- De quins drets estaven privades les dones a la democràcia atenenca?

.....

.....

2. Entra al següent web, identifica tres temples de l'acròpoli d'Atenes i descriu-los:

<http://www.tiching.com/737598>

1. Partenó.....

2. Erectèon.....

3. Temple d'Atena Nike.....

.....
.....
.....
.....
.....
.....
.....

3. Descriu les conseqüències socials i culturals de les conquestes d'Alexandre el Gran i defineix breument el concepte d'Hel·lenisme.

.....

.....

.....

.....

.....

1. Indica si les afirmacions següents sobre els orígens de Roma i l'època de la monarquia són verdaderes (V) o falses (F):

- Al començament la ciutat de Roma va ser governada per una oligarquia.
- Els romans van considerar que la seva història començava l'any 753 aC.
- Roma es va edificar sobre set turons per protegir-se dels enemics.
- La península Itàlica estava habitada per llatins, celtas i ibers al segle VII aC.

La ciutat de Roma va tenir set reis, i els tres últims van ser d'origen etrusc.

2. Contesta les preguntes següents sobre la Roma republicana:

- Què significa *res publica*?
-
-
- Quines eren les diferències entre patricis i plebeus en els primers temps de la República?
-
-
-
- Quina era la funció del tribú de la plebs?
-
-

3. Indica com va néixer el cristianisme i on. Després explica per què al començament va ser perseguit:

.....

.....

.....

4. Indica les causes de les crisis que hi va haver a l'Imperi romà:

- Causes polítiques i socials:
-
-
- Causes militars:
-
-
- Causes econòmiques:
-
-

1. Pensa en la situació dels esclaus a la Grècia clàssica i a Roma. En quina de les dues societats trobes que els tractaven millor? Per què?

2. Busca informació al llibre i a Internet sobre quan van passar aquests fets històrics. Després escriu la data que correspon a cada esdeveniment.

509 a. C.

48 a. C.

27 a. C.

212 d. C.

235 d. C.

El Senat concedeix el títol d'*August* a Octavi.

Comença un període d'alta inestabilitat política per a l'Imperi.

L'emperador Caracal·la amplia el dret de ciutadania romana.

Roma es converteix en República després d'una revolta contra el rei.

Juli Cèsar és proclamat dictador perpetu i assumeix els màxims poders.

3. Entra al web i fes una visita virtual a l'antiga Roma. Assegura't de llegir totes les informacions durant la visita i, després, contesta les preguntes:

<http://www.tiching.com/740310>

– Com eren els carrers de les ciutats romanes?

– Què eren els *lars*?

– Quina diferència hi ha entre una persona "lliure" i una persona "lliberta"?

– Quin tipus d'informacions podem trobar als murs i a les parets?

– Descriu el mercat romà i explica per què era important:

– Indica per què l'aigua era vital per al dia a dia dels romans: