

1. Elabora un eix cronològic amb les dades següents:

Australopithecus	H. neanderthalensis	150.00 / 35.000	3500000 / 2500000
Homo habilis	Homo erectus	2.300.000 / 1.800.000	1.900.000 / 400.000

2. Indica els tipus de megàlits de la Prehistòria i explica llur funció:

.....

.....

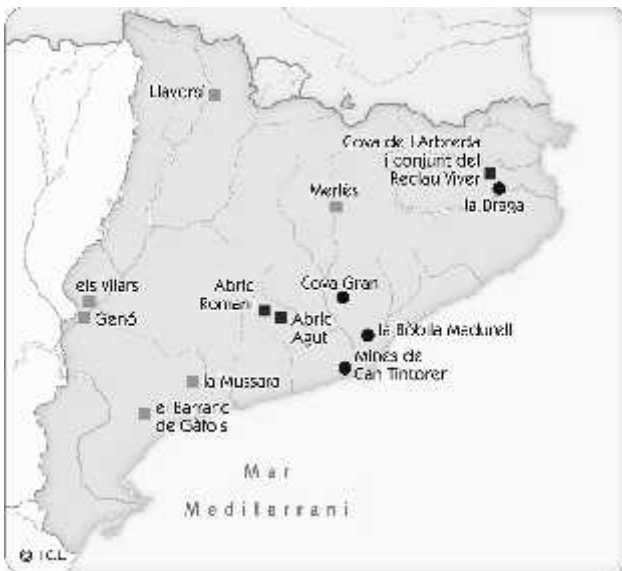
.....

.....

3. Indica si les següents afirmacions són verdaderes (V) o falses (F):

- Les aldees neolítiques eren autosuficients.
- Amb la metal·lúrgia van aparèixer els primers especialistes.
- L'expansió del comerç va afavorir l'aparició de grups socials.
- El ferro va ser el primer metall que es va fer servir a l'Edat dels Metalls.
- La cultura de Los Millares i la d'El Argar van desenvolupar-se durant el Neolític.

4. Consulta el llibre de text i explica a què corresponen els següents elements de la llegenda que hi ha al mapa:



.....



.....



.....

**1. Acoloreix al mapa aquestes zones:**

La Vall del Rift

El Creixent Fèrtil

**Anota el nom dels estats actuals  
allí on correspon.**

VALL DEL RIFT:

1: .....

2: .....

3: .....

4: .....

5: .....

6: .....

7: .....

CREIXENT FÈRTIL:

1: .....

2: .....

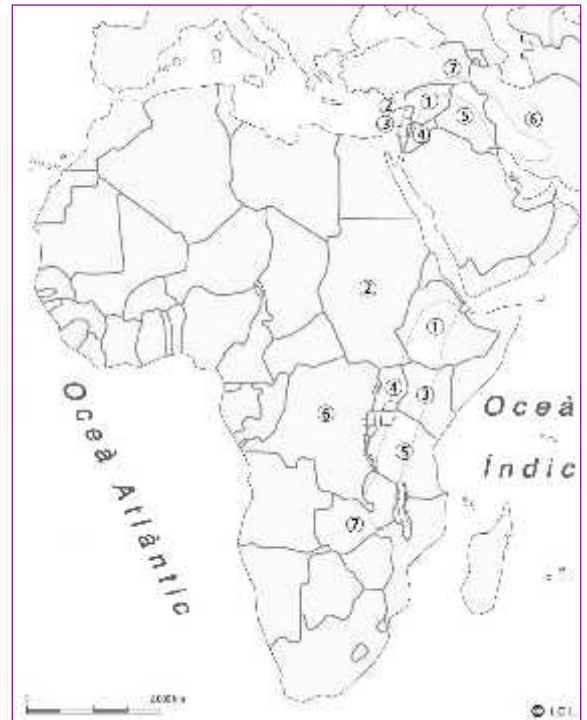
3: .....

4: .....

5: .....

6: .....

7: .....

**2. Visiona el vídeo següent sobre les mines prehistòriques de Gavà i contesta:**

<http://www.tiching.com/737720>

– Què era la variscita i per a què es feia servir? .....

.....  
.....

– Quines són les mines en galeria més antigues d'Europa? .....

.....  
.....

– Quan es van construir aquestes mines? Per a què es van construir? .....

.....  
.....

3. Per què creus que s'atribueix al període Neolític el nom de "Revolució Neolítica"? Raona la teva resposta.

.....

.....

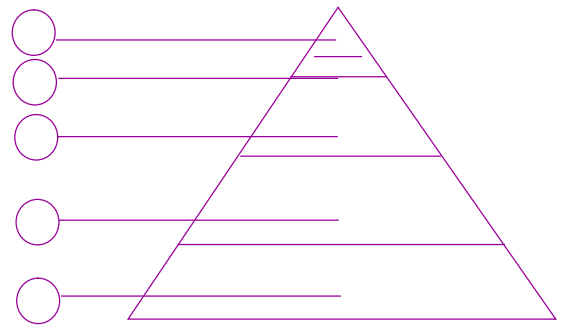
.....

.....

.....

1. Indica a la piràmide, seguint un ordre jeràrquic, la lletra que correspon als següents grups socials d'Egipte:

- a. Camperols.
- b. Alts funcionaris i escribes.
- c. Artesans i comerciants.
- d. Soldats.
- e. Faraó.



2. Respon les següents preguntes sobre l'aparició de l'escriptura:

- Quines van ser les causes que van impulsar el desenvolupament de l'escriptura? .....
- .....
- .....
- Com va evolucionar l'escriptura des dels primers pictogrames? .....
- .....
- .....

3. Identifica les imatges dels següents complexos funeraris egipcis i descriu-ne característiques principals:



- A. Piràmide: .....
- .....
- B. Hipogeu: .....
- .....
- C. Mastaba: .....
- .....

1. Localitza al mapa les següents ciutats i elements geogràfics on es va desenvolupar la civilització grega i escriu els seus noms:



Àsia Menor

Atenes

Mar Egeu

Mar Jònic

Macedònia

Peloponès

Troia

Esparta

Focea

2. Explica les diferències del tipus de govern a les polis d'Esparta i Atenes. Utilitza les paraules dels requadres:

govern oligàrquic

aristòcrates

ciutadans

institucions democràtiques

3. Escriu els noms dels conceptes relacionats amb la colonització grega de la Mediterrània allí on correspon:

Lliga de Delos

G. Mèdiques

Alexandre

Filip IV

G. del Peloponès

- Rei que va derrotar els atenesos i va iniciar la conquesta de Grècia: .....
- Guerra en què s'enfrontaren Esparta i Atenes: .....
- Associació de ciutats dirigida per Atenes: .....
- Rei macedoni que va unificar l'Hèl·lade: .....
- Guerres en què es van enfrontar els exèrcits d'Atenes i Pèrsia: .....



3. **Describeix les conseqüències socials i culturals de les conquestes d'Alexandre el Gran i defineix breument el concepte d'Hel·lenisme.**

.....

.....

.....

.....

.....

**1. Indica si les afirmacions següents sobre els orígens de Roma i l'època de la monarquia són verdaderes (V) o falses (F):**

- Al començament la ciutat de Roma va ser governada per una oligarquia.
- Els romans van considerar que la seva història començava l'any 753 aC.
- Roma es va edificar sobre set turons per protegir-se dels enemics.
- La península Itàlica estava habitada per llatins, celtas i ibers al segle VII aC.
- La ciutat de Roma va tenir set reis, i els tres últims van ser d'origen etrusc.

**2. Contesta les preguntes següents sobre la Roma republicana:**

- Què significa *res publica*? .....
- .....
- Quines eren les diferències entre patricis i plebeus en els primers temps de la República? .....
- .....
- .....
- Quina era la funció del tribú de la plebs? .....
- .....

**3. Indica com va néixer el cristianisme i on. Després explica per què al començament va ser perseguit:**

.....

.....

.....

**4. Indica les causes de les crisis que hi va haver a l'Imperi romà:**

- Causes polítiques i socials: .....
- .....
- Causes militars: .....



.....

– Causes econòmiques: .....

1. **Pensa en la situació dels esclaus a la Grècia clàssica i a Roma. En quina de les dues societats trobes que els tractaven millor? Per què?**

.....

.....

.....

.....

2. **Busca informació al llibre i a Internet sobre quan van passar aquests fets històrics. Després escriu la data que correspon a cada esdeveniment.**

509 a. C.

48 a. C.

27 a. C.

212 d. C.

235 d. C.

El Senat concedeix el títol d'*August* a Octavi. ....

Comença un període d'alta inestabilitat política per a l'Imperi. ....

L'emperador Caracal·la amplia el dret de ciutadania romana. ....

Roma es converteix en República després d'una revolta contra el rei. ....

Juli Cèsar és proclamat dictador perpetu i assumeix els màxims poders. ....

3. **Entra al web i fes una visita virtual a l'antiga Roma. Assegura't de llegir totes les informacions durant la visita i, després, contesta les preguntes:**

<http://www.tiching.com/740310>

– Com eren els carrers de les ciutats romanes? .....

.....

– Què eren els *lars*? .....

– Quina diferència hi ha entre una persona "lliure" i una persona "lliberta"? .....

.....

– Quin tipus d'informacions podem trobar als murs i a les parets? .....

.....

– Descriu el mercat romà i explica per què era important: .....

.....

– Indica per què l'aigua era vital per al dia a dia dels romans: .....

.....